

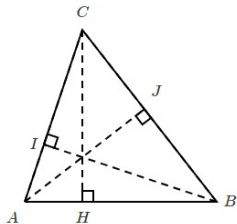
### Série 1

(1) Calculer mentalement  $25 \times 3$ .

(2) Calculer mentalement  $0,5 \times 50$ .

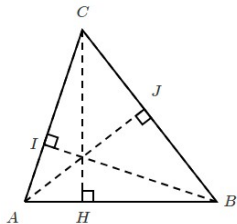
(3) On donne  $AB = 6,5$  cm,  $AC = 6$  cm,  $BC = 7$  cm et  
 $AJ = 4$  cm.

Calculer l'aire du triangle ABC.



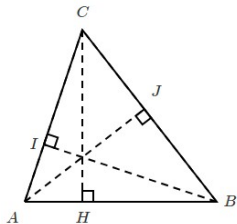
### Série 2

- (1) Calculer mentalement  $6 \times 25$ .
- (2) Calculer mentalement  $0,5 \times 56$ .
- (3) On donne  $AB = 6$  cm,  $AC = 5,5$  cm,  $BC = 7$  cm et  $CH = 5$  cm.  
Calculer l'aire du triangle ABC.



### Série 3

- (1) Calculer mentalement  $25 \times 9$ .
- (2) Calculer mentalement  $55 \times 0,5$ .
- (3) On donne  $AB = 6$  cm,  $AC = 5,5$  cm,  $BC = 7$  cm et  $BI = 5$  cm.  
Calculer l'aire du triangle ABC.



### Série 4

- (1) Calculer mentalement  $7 \times 25$ .
- (2) Calculer mentalement  $57 \times 0,5$ .
- (3) On donne  $AB = 7$  cm,  $CH = 6$  cm,  $IB = 6,5$  cm et  $AJ = 5$  cm.  
Calculer l'aire du triangle ABC.

