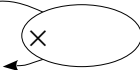


### Série 1

(1) Calculer le coefficient du tableau de proportionnalité.

Quantité	3	5
Prix en €	13,2	22



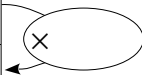
(2) Compléter mentalement :  $0,6 + ? = 1$

(3) Poser  $0,6 \times 1,17$

## Série 2

(1) Calculer le coefficient du tableau de proportionnalité.

Quantité	4	5
Prix en €	3	3,75



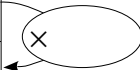
(2) Compléter mentalement :  $0,63 + ? = 1$

(3) Poser  $0,63 \times 1,5$

### Série 3

(1) Calculer le coefficient du tableau de proportionnalité.

Quantité	3	5
Prix en €	1,29	2,15



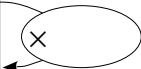
(2) Compléter mentalement :  $0,915 + ? = 1$

(3) Poser  $91,5 \times 0,8$

### Série 4

(1) Calculer le coefficient du tableau de proportionnalité.

Quantité	3	6
Prix en €	8	16



(2) Compléter mentalement :  $0,9805 + ? = 1$

(3) Poser  $980,5 \times 0,7$