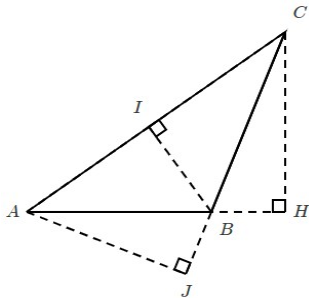


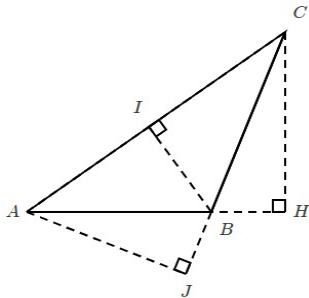
Série 1

- (1) Calculer mentalement 50×3 .
- (2) Calculer mentalement $0,1 \times 50$.
- (3) On donne $AB = 6,5$ cm, $AC = 6$ cm,
 $BC = 7$ cm et $AJ = 4$ cm.
Calculer l'aire du triangle ABC.



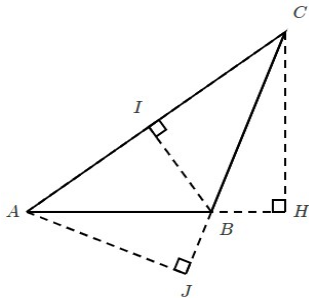
Série 2

- (1) Calculer mentalement 6×50 .
- (2) Calculer mentalement $0,1 \times 56$.
- (3) On donne $AB = 6$ cm, $AC = 5,5$ cm,
 $BC = 7$ cm et $CH = 5$ cm.
Calculer l'aire du triangle ABC.



Série 3

- (1) Calculer mentalement 50×9 .
- (2) Calculer mentalement $55 \times 0,1$.
- (3) On donne $AB = 6$ cm, $AC = 5,5$ cm,
 $BC = 7$ cm et $BI = 5$ cm.
Calculer l'aire du triangle ABC.



Série 4

- (1) Calculer mentalement 7×50 .
- (2) Calculer mentalement $57 \times 0,1$.
- (3) On donne $AB = 7$ cm, $CH = 6$ cm,
 $IB = 6,5$ cm et $AJ = 5$ cm.
Calculer l'aire du triangle ABC.

