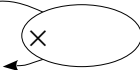


Série 1

(1) Calculer le coefficient du tableau de proportionnalité.

Quantité	5	15
Prix en €	22	66



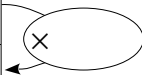
(2) Compléter mentalement : $48 + ? = 60$

(3) Poser $7,6 \times 1,15$

Série 2

(1) Calculer le coefficient du tableau de proportionnalité.

Quantité	4	8
Prix en €	3	6



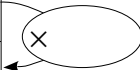
(2) Compléter mentalement : $13 + ? = 60$

(3) Poser $4,62 \times 1,5$

Série 3

(1) Calculer le coefficient du tableau de proportionnalité.

Quantité	4	5,5
Prix en €	13	17,875



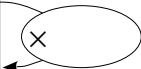
(2) Compléter mentalement : $15 + ? = 60$

(3) Poser $41,5 \times 1,8$

Série 4

(1) Calculer le coefficient du tableau de proportionnalité.

Quantité	4,5	8
Prix en €	1,6875	3



(2) Compléter mentalement : $31 + ? = 60$

(3) Poser $58,5 \times 1,2$