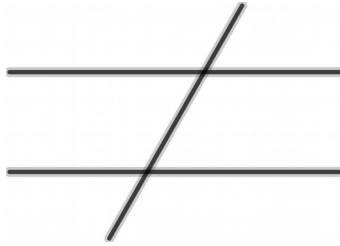
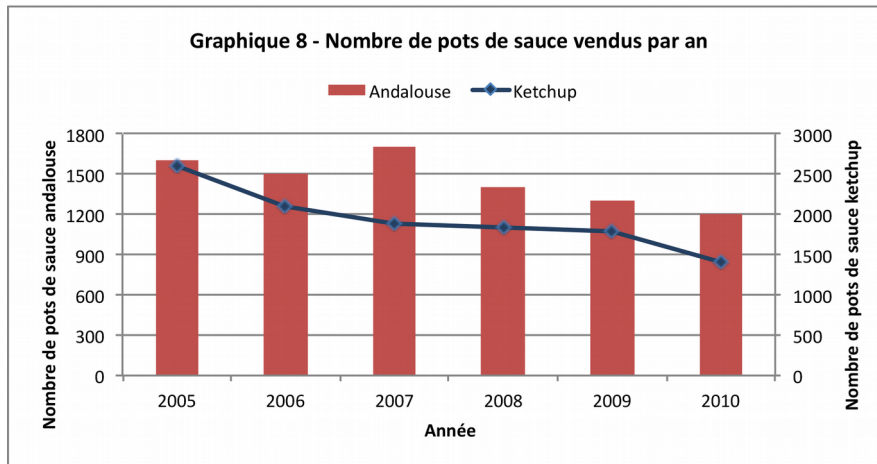


Exercice 8

Reproduire et coder les angles égaux sur ce signe « est différent de » géant :



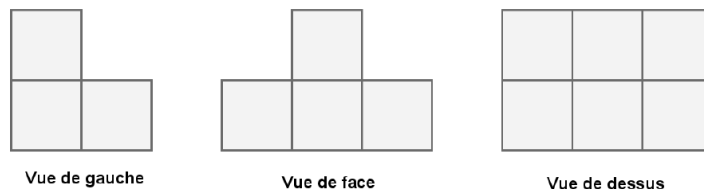
Exercice 9



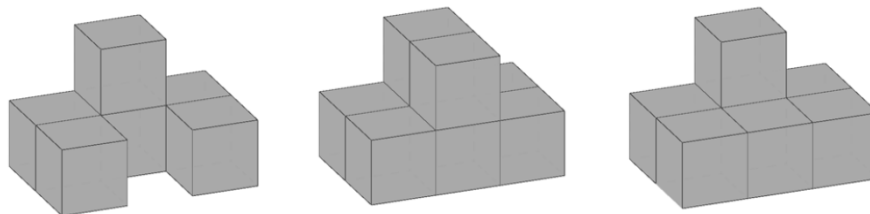
- 1) Pourquoi Tux affirme-t-il que, d'après ce graphique, les ventes en 2008 de pots de ketchup ont dépassé celles de pots de sauce andalouse ?
- 2) Est-ce chaque année le cas ?

Exercice 10

Un solide est constitué d'un assemblage de petits cubes identiques. Voici différentes vues de ce solide.



Quelle est la représentation en perspective qui correspond au solide ?



Exercice 11

Calculer le périmètre et l'aire de la figure suivante :

