

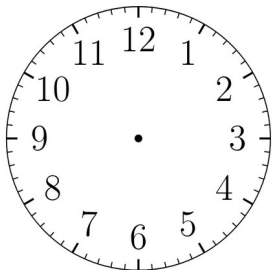
Série 1

(1) Donner un diviseur de 8 et de 18.

(2) $45 \text{ min} = \dots \text{ h}$

(3) 3 fois plus petit que 12 ?

(4) Représenter 8h33 sur ce cadran :



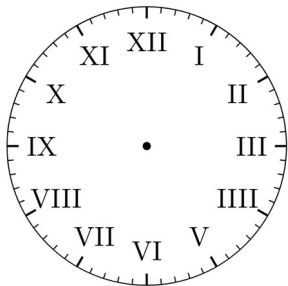
Série 2

(1) Donner un diviseur de 6 et de 21.

(2) 15 min = ... h

(3) 2 fois moins que 20 ?

(4) Représenter 3h58 sur ce cadran :



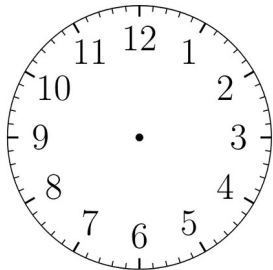
Série 3

(1) Donner un diviseur de 15 et de 40.

(2) $30 \text{ min} = \dots \text{ h}$

(3) 8 fois plus que 3 ?

(4) Représenter 13h12 sur ce cadran :



Série 4

- (1) Donner un diviseur de 8 et de 12.
- (2) Quarante-cinq minutes, c'est ...
heure.
- (3) 7 fois plus grand que 2 ?

- (4) Représenter 21h02 sur ce
cadran :

